

追検査

受検番号

第

番

令和4年度学力検査問題

社 会 (11時45分～12時35分)
(50分間)

注 意

1 解答用紙について

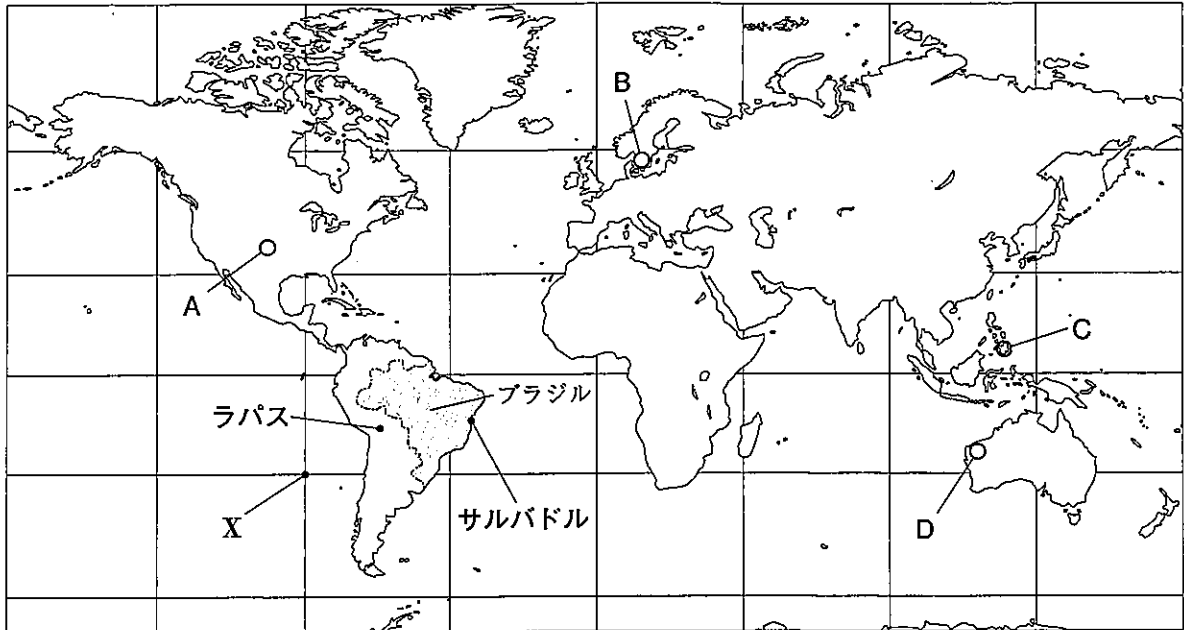
- (1) 解答用紙は1枚で、問題用紙にはさんであります。
- (2) 係の先生の指示に従って、所定の欄2か所に受検番号を書きなさい。
- (3) 答えはすべて解答用紙のきめられたところに、はっきりと書きなさい。
- (4) 解答用紙は切りはなしてはいけません。
- (5) 解答用紙の＊印は集計のためのもので、解答には関係ありません。

2 問題用紙について

- (1) 表紙の所定の欄に受検番号を書きなさい。
 - (2) 問題は全部で6問あり、表紙を除いて18ページです。
- 印刷のはっきりしないところは、手をあげて係の先生に聞きなさい。

1 Sさんは、次の地図に示した国や地域について調べました。地図をみて、問1～問4に答えなさい。(14点)

地図



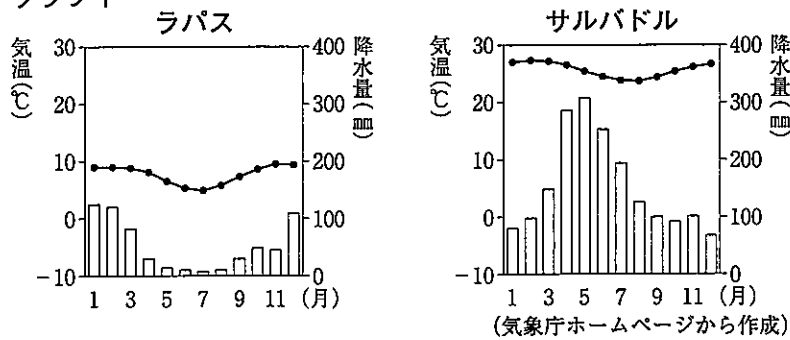
(注) 緯線は赤道を基準として30度間隔、経線は本初子午線を基準として45度間隔でそれぞれ示している。

問1 地図中に示したXの位置を、緯度と経度を用いてあらわすとき、次の文の **P** と **Q** にあてはまる語をそれぞれ書きなさい。(3点)

Xの位置は、およそ **P** 緯30度、 **Q** 経90度とあらわすことができます。

問2 Sさんは、地図中に示したラパスとサルバドルの二つの都市の気温と降水量について調べ、次のグラフ1をつくり、下のようにまとめました。まとめの中の **Y** と **Z** にあてはまることばをそれぞれ書きなさい。(5点)

グラフ1



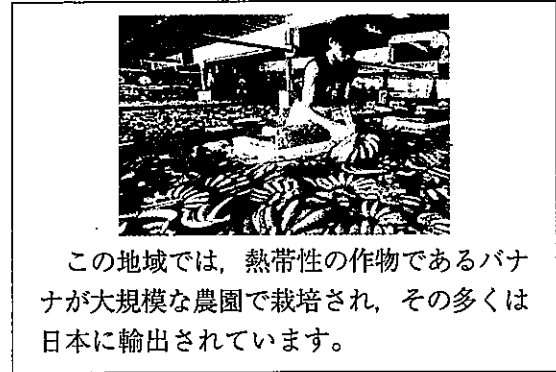
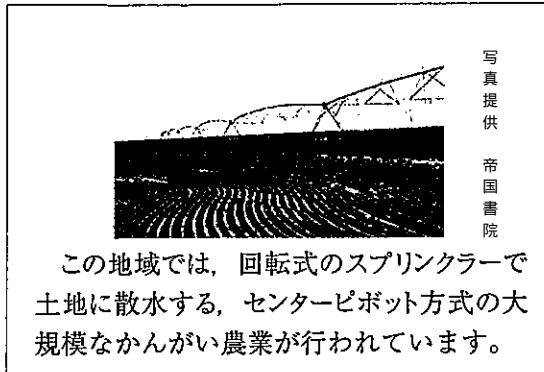
まとめ

地図中の二つの都市は、ほぼ同じ緯度ですが、グラフ1から、各月の気温に着目すると、ラパスはサルバドルに比べて、 **Y** ことが読みとれます。その理由として、二つの都市は地形が異なり、ラパスはサルバドルに比べて、 **Z** と考えられるからです。

問 3 Sさんは、地図中のA～Dのいずれかの地域の様子について調べ、次のカードIとカードIIをつくりました。カードI、カードIIと地図中のA～Dの地域の組み合わせとして最も適切なものを、下のア～エの中から一つ選び、その記号を書きなさい。(3点)

カードI

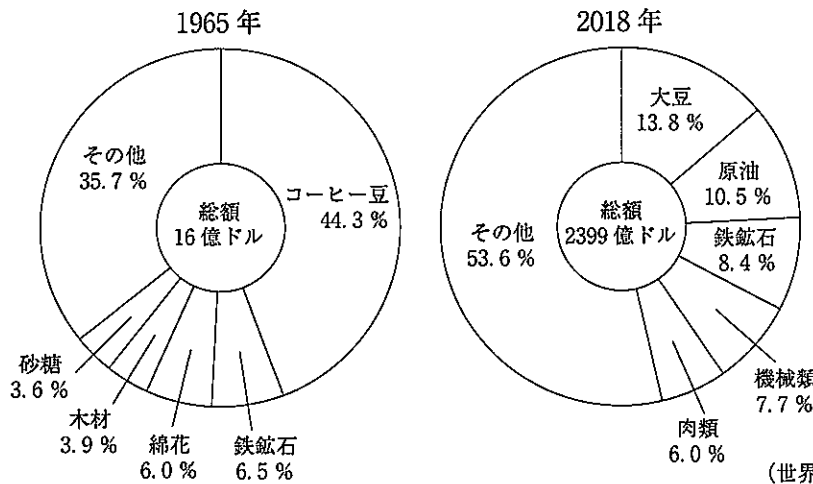
カードII



- ア カードI-A カードII-C イ カードI-A カードII-D
ウ カードI-B カードII-C エ カードI-B カードII-D

問 4 次のグラフ2は、地図中に示したブラジルの、1965年と2018年における輸出総額に占める輸出品の割合(上位5品目)を示したものです。また、表は、2018年におけるさとうきびとコーヒー豆の世界の生産量と世界の生産量に占める国別生産量の割合(上位3か国)を示したものです。グラフ2と表について説明した文として下線部が正しいものを、下のア～オの中からすべて選び、その記号を書きなさい。(3点)

グラフ2



表

さとうきび	
世界の生産量	190703万t
ブラジル	39.2%
インド	19.8%
中国	5.7%

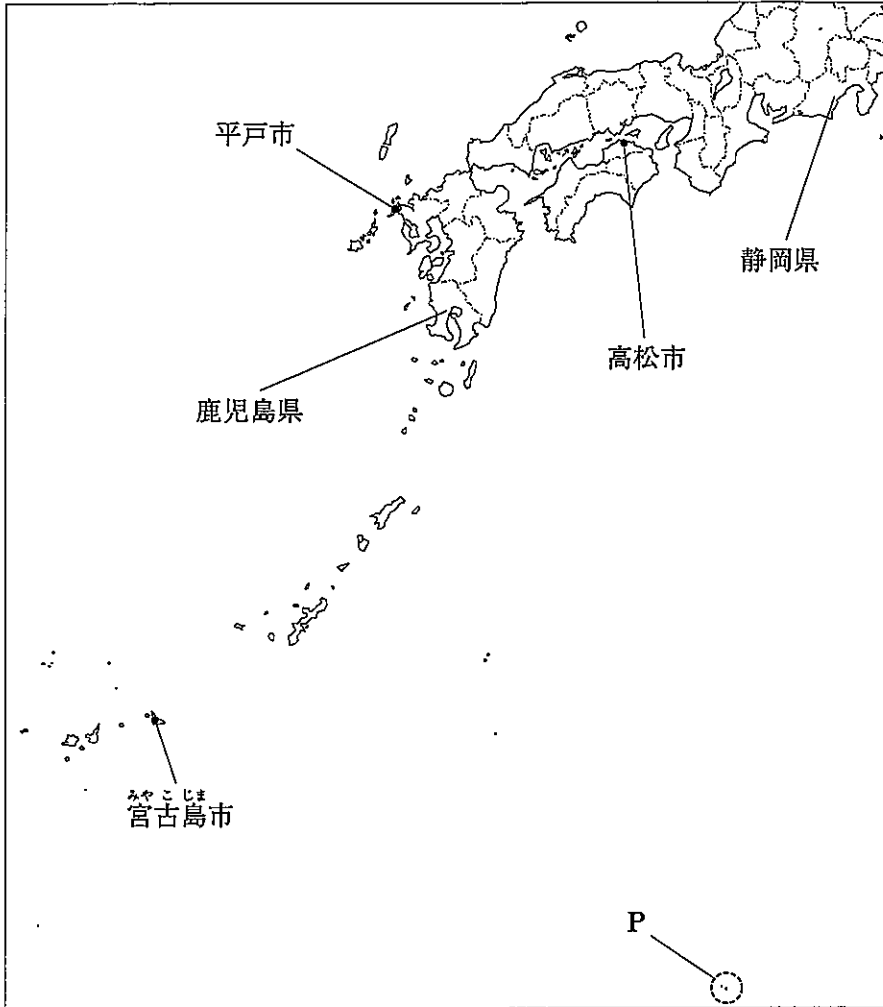
コーヒー豆	
世界の生産量	1030万t
ブラジル	34.5%
ベトナム	15.7%
インドネシア	7.0%

(世界国勢図会 2020/21年版などから作成)

- ア ブラジルは、かつてコーヒー豆の輸出に依存したモノカルチャー経済の国で、1965年におけるブラジルのコーヒー豆は輸出総額の40%以上を占めている。
- イ ブラジルでは、大規模な機械化により大豆などの輸出作物が栽培されるようになり、2018年におけるブラジルの大豆の輸出額は、機械類の輸出額の2倍以上である。
- ウ ブラジルでは、鉄産資源の開発が進められ、2018年におけるブラジルの鉄鉱石の輸出額は、1965年の鉄鉱石の輸出額の100倍以上である。
- エ ブラジルは、さとうきびを原料とするバイオ燃料の生産を拡大させており、2018年におけるブラジルのさとうきびの生産量は、5億tを超えている。
- オ ブラジルは、世界一のコーヒー豆の産地であり、2018年におけるブラジルのコーヒー豆の生産量は、ベトナムとインドネシアの生産量の合計の2倍以上である。

2 Nさんは、地理的分野の授業で日本の諸地域を学習したあと、地図1を作成しました。地図1をみて、問1～問5に答えなさい。(15点)

地図1



問1. Nさんは、地図1中の高松市、平戸市、^{みやこしま}宮古島市の三つの都市における月別平均気温と年降水量を調べ、次のグラフ1と表1をつくりました。グラフ1と表1中のI～Ⅲにあたる都市の組み合わせとして正しいものを、あとのア～カの中から一つ選び、その記号を書きなさい。(3点)

グラフ1 高松市、平戸市、宮古島市の三つの都市における月別平均気温

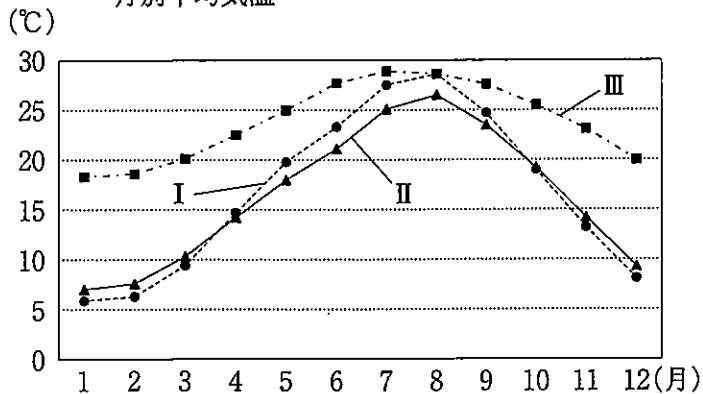


表1 高松市、平戸市、宮古島市の三つの都市における年降水量

	年降水量
I	1150 mm
II	2206 mm
III	2076 mm

(気象庁ホームページから作成)

- ア I - 高松市 II - 平戸市 III - 宮古島市
 イ I - 高松市 II - 宮古島市 III - 平戸市
 ウ I - 平戸市 II - 高松市 III - 宮古島市
 エ I - 平戸市 II - 宮古島市 III - 高松市
 オ I - 宮古島市 II - 高松市 III - 平戸市
 カ I - 宮古島市 II - 平戸市 III - 高松市

問 2 地図 1 中の P の範囲にある日本最南端の島の名称を書きなさい。また、この島に関して述べた文として正しいものを、次のア～エの中から一つ選び、その記号を書きなさい。(3点)

- ア 奴国の王が後漢の皇帝から授けられたときのものとされる金印が発見された。
 イ ポルトガル人を乗せた中国の船が流れつき、鉄砲が伝えられた。
 ウ 波による侵食から守るために護岸工事がほどこされ、国によって直接管理されている。
 エ 樹齢が 1000 年以上の杉など、豊かな自然がみられ、世界遺産に登録されている。

問 3 次の表 2 は、九州地方の各県の、2018 年における人口、農業産出額、外国人のべ宿泊者数について、各県を人口の多い順に並べたものです。表 2 中の X～Z には福岡県、宮崎県、沖縄県のいずれかがあてはまり、a と b には米と畜産のいずれかがあてはまります。Y と a の組み合わせとして正しいものを、下のア～カの中から一つ選び、その記号を書きなさい。(3点)

表 2

	人口 (万人)	農業産出額(億円)			外国人のべ宿泊者数(万人)	
		a	b	野菜	アメリカ 合衆国	韓国
X	511	429	408	729	6.3	156.5
熊本県	176	391	1147	1227	1.5	33.0
鹿児島県	161	211	3172	556	1.3	17.3
Y	145	6	449	158	22.0	123.0
長崎県	134	135	562	439	3.9	21.9
大分県	114	248	454	328	1.1	65.1
Z	108	178	2208	670	0.5	13.6
佐賀県	82	281	351	325	0.3	20.0

(注) のべ宿泊者数とは、宿泊した人の宿泊数の合計であり、例えば 1 人の宿泊者が 3 泊すると 3 人として換算する。
 (データでみる県勢 2021 年版などから作成)

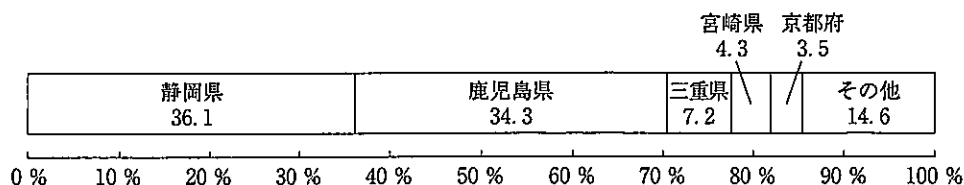
- ア Y - 福岡県 a - 米 イ Y - 福岡県 a - 畜産
 ウ Y - 宮崎県 a - 米 エ Y - 宮崎県 a - 畜産
 オ Y - 沖縄県 a - 米 カ Y - 沖縄県 a - 畜産

問 4 次は、地図1中の静岡県と鹿児島県に関連して、自然条件を生かした産業について学習する授業における、先生とNさんの会話です。会話文中の **Q** にあてはまることばを書きなさい。(4点)

先生：静岡県と鹿児島県では、茶の栽培がさかんです。

Nさん：次のグラフ2から、茶の収穫量の割合の合計は、この二つの県で全国の70%以上を占めていることが読みとれます。この二つの県では、なぜ茶の栽培がさかんのですか。

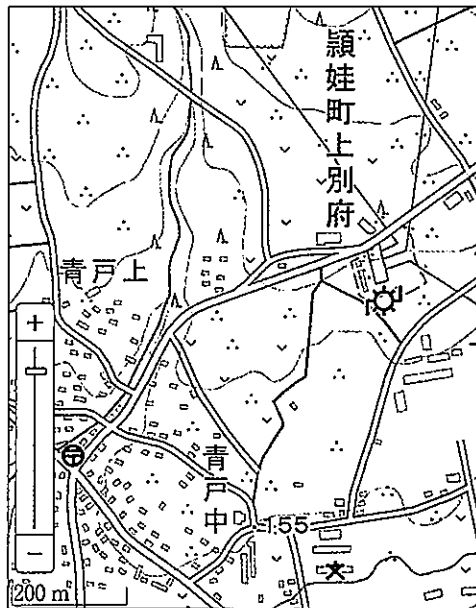
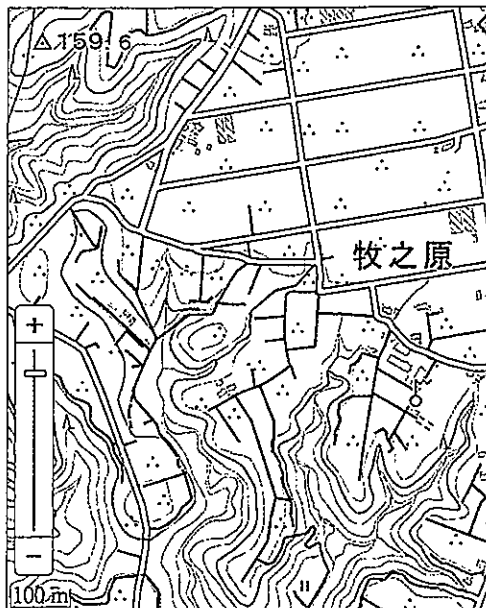
グラフ2 2019年における全国に占める茶の都道府県別収穫量の割合(上位5府県)



(データでみる県勢 2021年版から作成)

先生：では、地理院地図を使って、この二つの県における茶の栽培のさかんな地域をみてみましょう。

地図2 静岡県における茶の栽培のさかんな地域 地図3 鹿児島県における茶の栽培のさかんな地域



(国土交通省 地理院地図から作成)

Nさん：はい。地図2と地図3から、どちらも茶畑が広がっていることが読みとれます。

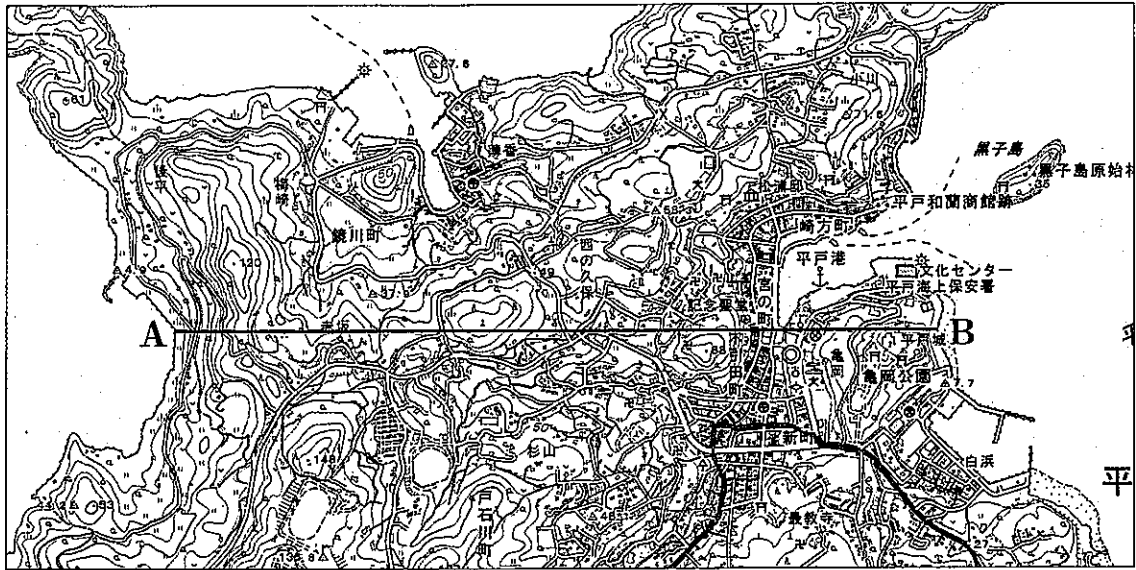
先生：そうですね。地図2と地図3の地域は、どちらも台地です。さらに、地図3で示した九州の南部には、シラスとよばれる古い火山の噴出物が広く分布していることを学習していますね。これらから、茶の栽培にはどのような土地が適していると考えられますか。

Nさん：はい。茶の栽培には、 **Q** と考えられます。

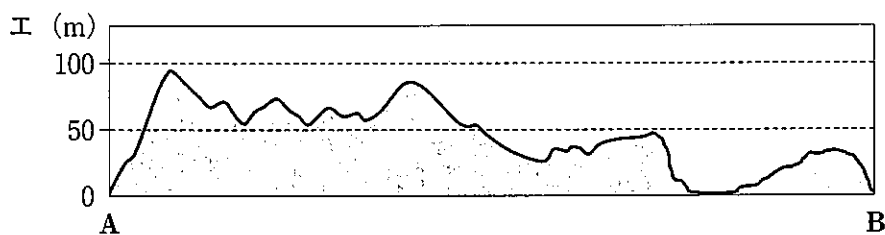
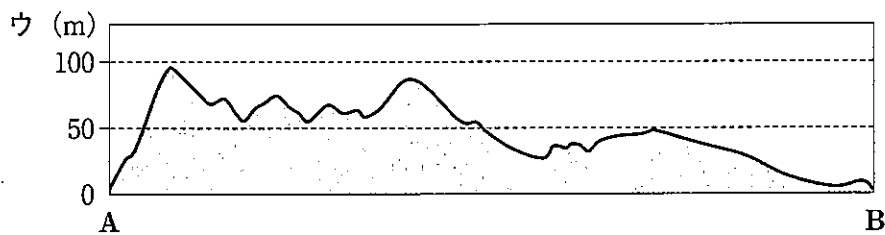
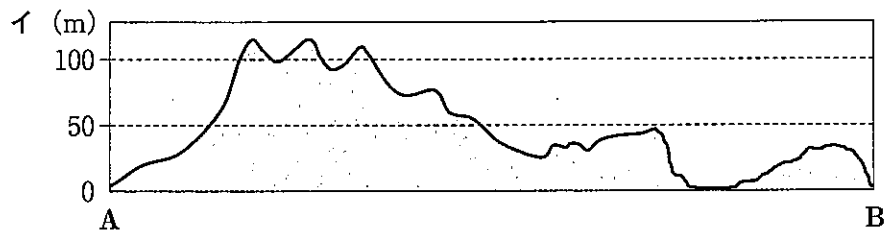
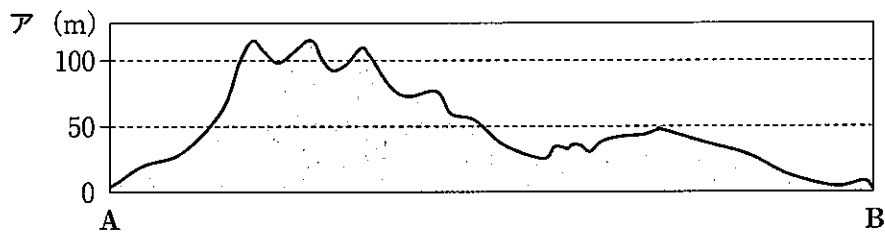
先生：そのとおりです。よく理解できていますね。

問 5 次の地図4は、地図1中の平戸市の一部を示した2万5千分の1の地形図です。地図4中のA—B線に沿って模式的に描いた断面図として最も適切なものを、下のア～エの中から一つ選び、その記号を書きなさい。(2点)

地図4



(国土地理院2万5千分の1地形図「平戸」令和3年発行一部改変)



3 Mさんは、5人の人物について調べ、次のようにまとめました。これを見て、問1～問5に答えなさい。(16点)

①大伴家持は「万葉集」をまとめたとされている。「万葉集」には、天皇や貴族だけでなく、防人や農民の歌も収められている。
②藤原道長は、娘を天皇のきさきにし、その子を天皇に立てて権力をにぎった。「この世をばわが世とぞ思う望月の欠けたることも無しと思えば」という歌は、道長の権力の強さを物語っている。
<input type="checkbox"/> X は、鎌倉幕府をたおそうと兵を起し、一度は隠岐に流されたが、楠木正成などの新興の武士や有力御家人の足利尊氏などを味方につけ、鎌倉幕府をほろぼした。
茶の湯が大名や大商人たちの交流の場になり流行するなか、③千利休は禅宗の影響を受け、内面の精神性を重視し、質素なわび茶の作法を完成させた。
④松平定信は、徳川吉宗の政治を理想として質素・儉約をかかげ、あれた農村と幕府の財政を立て直しや都市でのききん対策に取り組んだ。

問1 次の資料1は、下線部①の人物が活躍した奈良時代において、律令に基づいてつくられた戸籍の一部をわかりやすくおしたものです。A～Dのうち、資料1から読みとれる内容を述べた文として、正しいものの組み合わせを、下のア～エの中から一つ選び、その記号を書きなさい。(3点)

資料1

戸主	32歳
母	52歳
兄	33歳
弟	15歳
妹	16歳
妹	28歳

- A 班田収授法に基づいて口分田があたえられたのは3人である。
- B 班田収授法に基づいて口分田があたえられたのは6人である。
- C 庸や調の負担が課される正丁は2人である。
- D 庸や調の負担が課される正丁は4人である。

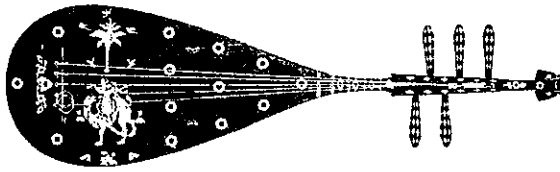
(注) 戸主は男性である。

- ア AとC イ AとD ウ BとC エ BとD

問2 Mさんは、文化に興味をもち調べたところ、次のa、bの文と、あとの資料2、資料3を見つけました。下線部②の人物が活躍した平安時代の文化について述べた文と、その時代の代表的な文化財の組み合わせとして正しいものを、表中のア～エの中から一つ選び、その記号を書きなさい。(3点)

- a 国際的な交流が盛んになり、神話や国の成り立ちを記した「古事記」や「日本書紀」という歴史書がまとめられた。
- b 念仏を唱えて阿弥陀如来にすがり、死後に極楽浄土へ生まれ変わることを願う浄土信仰が地方の人々にも広まり、平等院鳳凰堂が建てられた。

資料 2



らでんしたんごげんびわ
螺鈿紫檀五絃琵琶

資料 3



源氏物語絵巻
写真提供 アフロ

表

	文化	代表的な文化財
ア	a	資料 2
イ	a	資料 3
ウ	b	資料 2
エ	b	資料 3

問 3 まとめの中の にあてはまる人物名を書きなさい。また、 の人物が行った新しい政治の特色を、「天皇」という語を用いて書きなさい。(5点)

問 4 下線部③の人物が活躍した安土桃山時代における政治や社会の様子について述べた文として正しいものを、次のア～エの中から一つ選び、その記号を書きなさい。(2点)

ア 惣とよばれる自治組織がつくられはじめ、農業用水の建設や管理などについて、村のおきてが定められた。

イ 近畿地方の進んだ農業の技術が各地に広まり、備中ぐわや千歯こきなどによって、生産力が上がった。

ウ 刀狩が命じられ、農民や寺社から刀や弓、やり、鉄砲などの武器が取り上げられた。

エ 領地を質入れしたり、売ったりした御家人を救うために、手放した土地を御家人に返させる徳政令が出された。

問 5 次のア～エは、下線部④の人物が老中に就任したあとの日本と外国とのかかわりについて述べた文です。年代の古い順に並べかえ、その順に記号で書きなさい。(3点)

ア アヘン戦争で中国がイギリスに敗れたことを知った幕府は、来航する外国船には燃料や食料を与えて帰すことにした。

イ イギリスの軍艦が、オランダ船をとらえるために長崎湾に侵入する、フェートン号事件が起こった。

ウ 幕府は、外国船(異国船)打払令を出して、日本に接近する外国船を砲撃して追い払う方針を決めた。

エ 蝦夷地の根室に来航したロシアの使節ラクスマンからの通商の求めに対し、幕府は長崎で交渉すると回答した。

4 次の年表をみて、問1～問5に答えなさい。(17点)

西暦(年)	できごと
1858	・日米修好通商条約が結ばれる……………
1894	・日清戦争が始まる……………
1904	・日露戦争が始まる……………
1914	・第一次世界大戦が始まる……………
1917	・ロシア革命が起こる……………
1920	・日本が国際連盟に加盟する……………
1945	・日本がポツダム宣言を受諾する……………
1956	・日本が国際連合に加盟する……………

Diagram labels: A (between 1894 and 1904), B (at 1914), C (at 1917), D (between 1858 and 1920), E (between 1945 and 1956).

問1 年表中Aの時期における日本の政治や社会の様子を述べた文として正しいものを、次のア～エの中から一つ選び、その記号を書きなさい。(3点)

- ア 鉄道の建設や軍備の拡張のために鉄鋼の需要が高まり、政府が設立した八幡製鉄所の操業が開始された。
- イ 政府は、朝鮮との交渉を進めようと、朝鮮が朝貢する清と対等な内容の条約である、日清修好条規を結んだ。
- ウ 陸軍や藩閥に支持された桂太郎が首相になると、憲法の本質に基づく政治を守り、民衆の考えを反映していこうという第一次護憲運動が起こった。
- エ ポーツマス条約で賠償金が得られないことがわかると、国民は激しく政府を攻撃し、東京では日比谷焼き打ち事件が起こった。

問2 年表中Bに関連して、次の資料1は、ヨーロッパで第一次世界大戦が始まった直後の閣議での、当時の外相であった加藤高明の発言の一部をわかりやすくおしたものです。資料1から読みとれる内容として最も適切なものを、下のア～エの中から一つ選び、その記号を書きなさい。(3点)

資料1

…このような次第で、日本は今、日英同盟条約の義務によって参戦しなければいけない立場にはいない。条文の規定が日本の参戦を命令するような事態は今のところでは発生してはいない。ただ、一つは、先ほど英国から参戦の依頼があったように、同盟という親しい関係があること、もう一つは日本がこの機会にドイツの根拠地を東洋から一掃して、国際上に一段と地位を高めるという利益があること、この二点から参戦を断行するのが良策であると信じている。…

- ア 日英同盟条約に規定された参戦の義務に基づき、参戦すべきである。
- イ 親しい関係はイギリスだけではなく、参戦すべきでない。
- ウ 日本の国際的地位を高める良い機会であり、参戦すべきである。
- エ ドイツと日本は日清戦争後の三国干渉により互いに遺恨があるため、参戦すべきでない。

問 3 次の年表中Cに関連するできごとについてまとめたものです。まとめの中の **P** にあてはまる人物名を書きなさい。(3点)

まとめ

ロシアでは、「パンと平和」を求める労働者のストライキや兵士の反乱が続き、かれらの代表会議(ソビエト)が各地に設けられました。皇帝が退位して議会在主導する臨時政府ができましたが、政治は安定せず、社会主義者の **P** の指導のもと、ソビエトに権力の基盤を置く新しい政府ができました。資料2は、演説する **P** の様子です。

資料2




問 4 次のア～エは、年表中Dの時期の日本の外交について述べた文です。年代の古い順に並べかえ、その順に記号で書きなさい。(3点)

- ア 小村寿太郎外相がアメリカとの条約に調印したことをきっかけに、関税自主権が完全に回復された。
- イ 日本政府は、岩倉具視を大使とする使節団を欧米諸国に派遣し、条約改正の交渉を試みた。
- ウ 外務卿の井上馨は、鹿鳴館で舞踏会を開くなどの欧化政策をとりつつ、条約改正交渉に臨んだ。
- エ 陸奥宗光外相が日英通商航海条約を結んだことをきっかけに、領事裁判権(治外法権)の撤廃に成功した。

問 5 次の年表中Eの時期の日本の民主化について学習する授業における、先生と生徒の会話です。会話文を読み、 **Q** にあてはまる農地改革の説明を、「政府」という語を用いて書きなさい。(5点)

先生：グラフから、どのようなことが読みとれますか。

グラフ 1940年と1950年の自作地と小作地の割合



(近代日本経済史要覧から作成)

生徒：はい。1940年と比較して、1950年は自作地の割合が増え、小作地の割合が減っていることが読みとれます。

先生：そうですね。小作地の割合が減り自作地の割合が増えたのは、占領下の日本で行われた農地改革によるものです。農地改革とはどのようなものであったかを説明してみましょう。

生徒：はい。農地改革とは、 **Q** というもので、これにより多くの自作農が生まれました。

先生：そのとおりです。

5 Kさんのクラスでは、公民的分野の学習のまとめとして、自分の興味のある分野からテーマを選び、調べることになりました。次の表1は、Kさんが興味をもった分野とテーマについてまとめたものです。表1をみて、問1～問7に答えなさい。(23点)

表1

分野	テーマ
グローバル社会と①人権	・国際社会にはどのような人権上の課題があるのだろうか。
②選挙の課題と私たちの政治参加	・私たちは政治にどのように関わればよいのだろうか。
裁判員制度と司法制度改革	・③司法制度にはどのような課題があるのだろうか。
④消費者の権利を守るために	・消費者はどのような権利が保障されているのだろうか。
景気と金融政策	・⑤景気の変動に対して、どのような取り組みがなされているのだろうか。
⑥少子高齢化と財政	・少子高齢化は、どのような影響をおよぼしているのだろうか。
⑦地域主義の動き	・各地域の結びつきが強くなってきたのはなぜだろうか。

問1 下線部①に関連して、Kさんは、国際的な人権保障のための条約について調べ、次のようにまとめました。まとめ1の中の **P** と **Q** にあてはまる語の組み合わせとして正しいものを、下のア～エの中から一つ選び、その記号を書きなさい。(3点)

まとめ1

国際的な人権保障のための条約には、様々なものがあります。日本では、女子差別撤廃条約の批准を受けて、**P** が1985年に制定されました。また、障害者基本法の改正や障害者差別解消法の制定などの法整備を行い、障害者の人権を確保し障害者固有の尊厳の尊重を促進することを目的として定められた **Q** を2014年に批准しました。

- | | |
|-------------------|-------------|
| ア P - 男女雇用機会均等法 | Q - 障害者権利条約 |
| イ P - 男女雇用機会均等法 | Q - 国際人権規約 |
| ウ P - 男女共同参画社会基本法 | Q - 障害者権利条約 |
| エ P - 男女共同参画社会基本法 | Q - 国際人権規約 |

問2 下線部②に関連して、選挙の課題の一つに「一票の格差」があります。次の表2は、衆議院議員総選挙における二つの小選挙区の有権者数を示したものです。表2をみて、「一票の格差」とはどのようなことか、「議員」と「価値」という二つの語を用いて説明しなさい。(5点)

表2

	有権者数
A区	60万人
B区	20万人

問 3 下線部③に関連して、次のXとYの正誤の組み合わせとして正しいものを、下のア～エの中から一つ選び、その記号を書きなさい。(3点)

X 刑事裁判では、費用を出せないなどの理由で弁護人をたのめないときには、国選弁護人をつけることができる。

Y 検察審査会は、両議院の7人ずつの国会議員で組織され、検察官が事件を起訴しなかったことが適切かどうかを判断する。

ア X 正 Y 正

イ X 正 Y 誤

ウ X 誤 Y 正

エ X 誤 Y 誤

問 4 下線部④に関連して、消費者問題への国や地方公共団体の対応に関して述べた文として正しいものを、次のア～エの中から一つ選び、その記号を書きなさい。(3点)

ア 消費者が被害にあったあとに、国や地方公共団体がその救済を図るという考え方にに基づき、消費者基本法が消費者保護基本法に改正された。

イ 消費者からの相談を受けたり、情報を提供したりする消費者庁が、地方公共団体に設置された。

ウ 店頭販売やインターネット販売において商品を購入した場合、一定期間内であれば消費者側から無条件で契約を解除できるクーリング・オフ制度が定められた。

エ 製品の欠陥によって消費者が被害を受けたとき、被害者が製造者などに対して損害賠償を求められることができる法律として、製造物責任法(PL法)が定められた。

問 5 下線部⑤に関連して、Kさんは、金融政策と財政政策について調べ、次の表3をつくりました。表3のA～Dにあてはまる、景気を安定させる政策として最も適切なものを、下のア～エの中から一つずつ選び、その記号を書きなさい。(3点)

表 3

	不景気(不況)のとき	好景気(好況)のとき
日本銀行の金融政策	A	B
政府の財政政策	C	D

ア 公共投資を増やして企業の仕事を増やす。

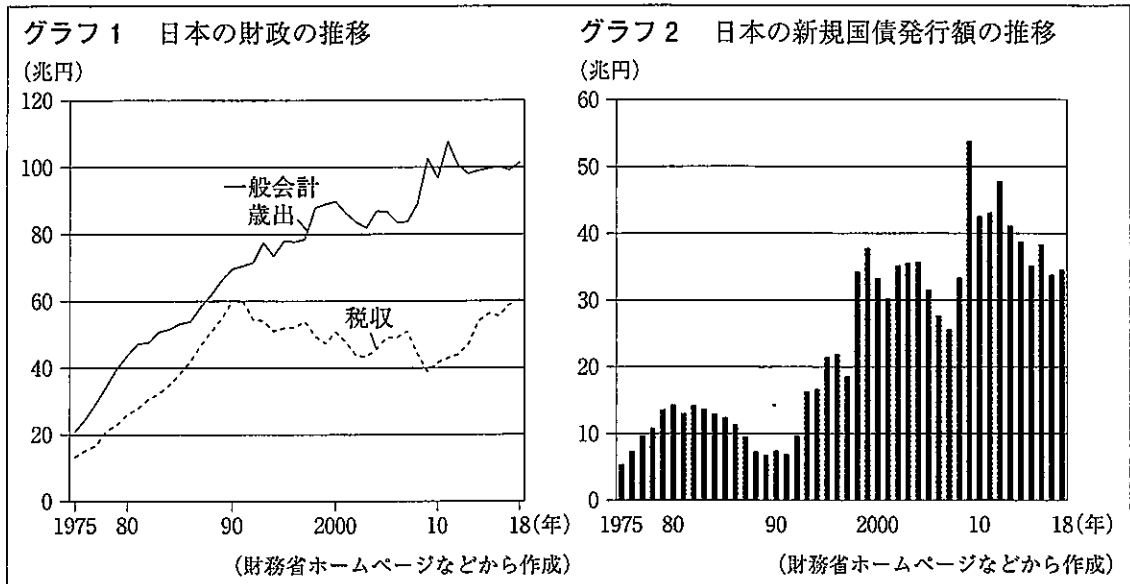
イ 増税をして企業や家計の消費を減らそうとする。

ウ 国債などを銀行へ売り、銀行から企業への資金の貸し出しを減らそうとする。

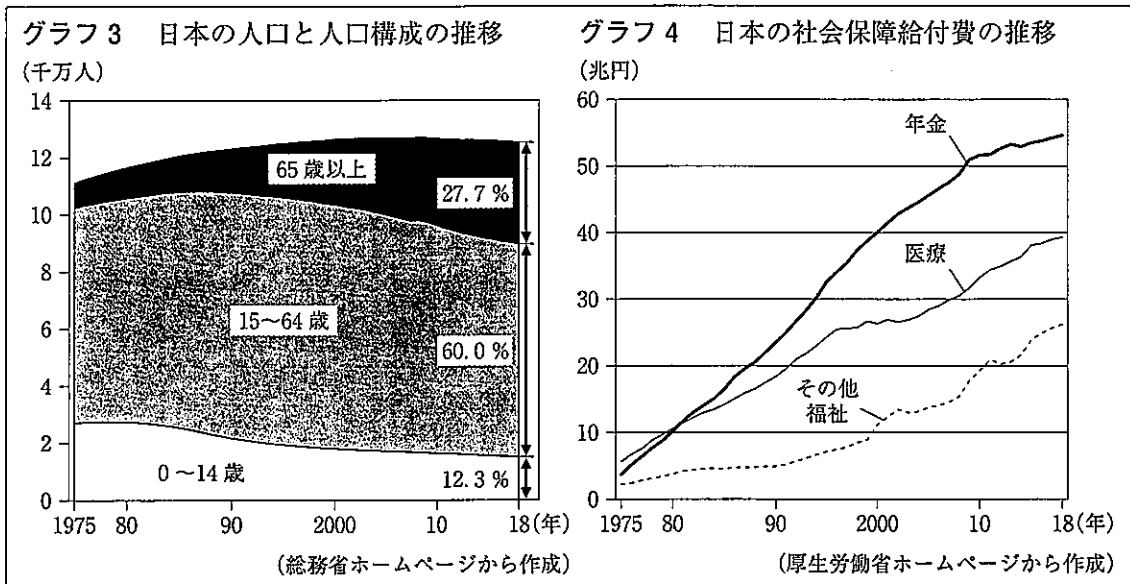
エ 国債などを銀行から買い、銀行から企業への資金の貸し出しを増やそうとする。

問 6 下線部⑥に関連して、次の資料1と資料2から読みとれる内容を述べた文IとIIの正誤の組み合わせとして正しいものを、下のア～エの中から一つ選び、その記号を書きなさい。(3点)

資料1



資料2



- I 資料1をみると、1975年から2018年までのすべての年において、税収は一般会計歳出を下回っている。また、1975年から2018年までのすべての年において、国債を発行している。
- II 資料2をみると、65歳以上の人口は1975年よりも2018年の方が多い。また、1975年から2018年のすべての年において、社会保障給付費のうち年金の支払い額が最も高い。

ア I 正 II 正
 ウ I 誤 II 正

イ I 正 II 誤
 エ I 誤 II 誤

問 7 Kさんは、下線部⑦について調べ、次のようにまとめました。まとめ2の中の にあてはまる語を書きなさい。(3点)

まとめ2

アジア地域は、歴史や文化が多様で、一つのまとまりをつくることは難しいとされてきましたが、東南アジアでは、1967年に東南アジア諸国連合(A S E A N)が発足しました。

また、アジア・太平洋地域では、1989年からアジア太平洋経済協力会議(A P E C)が開かれています。さらに、この地域の11か国の間において、貿易の自由化など、経済関係を強化する が2018年3月に調印されました。

6 Fさんは3年間の社会科学習のまとめとして、次のカードⅠ～カードⅥをつくりました。これらに関する問1～問5に答えなさい。(15点)

カードⅠ

都道府県をいろいろな基準や視点から地域区分すると、地域の特色や地域間の結びつきをとらえることができます。

カードⅡ

現在、世界の国々の間では、交通手段や情報通信技術の発達により、国境を越えた人やものの移動、情報のやりとりが活発になっています。

カードⅢ

国会は、主権者である国民が直接選んだ国会議員によって組織されるため、国権の最高機関として、重要な地位にあります。

カードⅣ

市場経済で企業は、質が高く、かつ低価格の財やサービスを提供して売り上げをのばそうとするため、競争が行われ、適正な価格が決まります。

カードⅤ

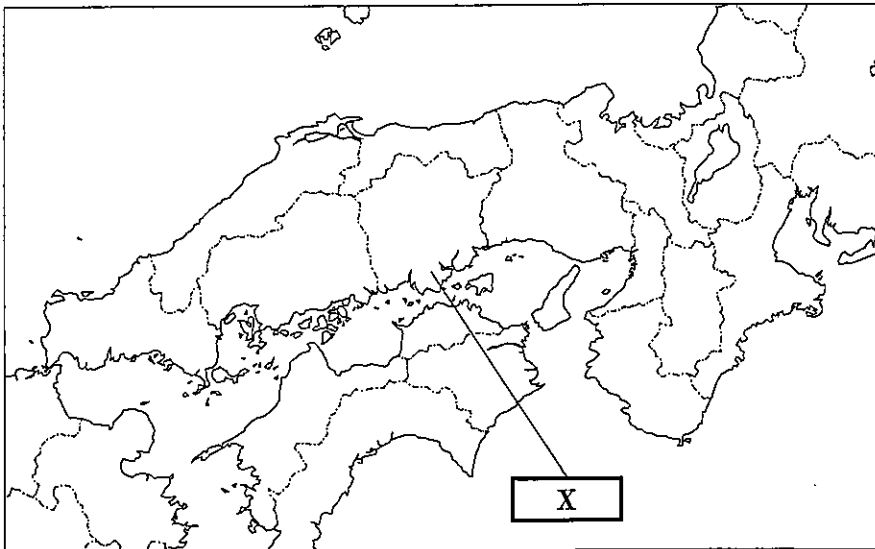
日本は、1955年から、年平均で10%程度の経済成長を続けましたが、1973年に高度経済成長は終わりを告げました。

カードⅥ

2015年の世界の貿易額は、1980年と比べると約9倍に増え、特に、先進工業国間では機械類の貿易が中心になっています。

問1 カードⅠに関連して、次の地図中の X の都道府県名を書きなさい。また、その都道府県の位置について述べた文として正しいものを、下のア～エの中から一つ選び、その記号を書きなさい。(3点)

地図



- ア 日本の7地方区分では近畿地方に属しており、鳥根県と接している。
- イ 日本の7地方区分では近畿地方に属しており、鳥取県と接している。
- ウ 日本の7地方区分では中国・四国地方に属しており、鳥根県と接している。
- エ 日本の7地方区分では中国・四国地方に属しており、鳥取県と接している。

問 2 カードⅡに関連して、次のア～エは、日本における交通・通信の発達に関して述べたものです。年代の古い順に並べかえ、その順に記号で書きなさい。(3点)

- ア 西まわり航路や東まわり航路が開かれ、年貢米や特産物が廻船で運ばれた。
- イ ラジオ放送が始まり、国内外のできごとがすぐに全国に伝えられた。
- ウ 交通のさかんなところでは、物資の運送をあつかう馬借が活動しはじめた。
- エ 郵便制度が作られ、全国均一の料金で郵便が利用できるようになった。

問 3 カードⅢに関連して、Fさんは、国会と内閣の関係について調べたところ、ある国会の議事録を見つけました。次は、その国会の議事録をまとめたものです。まとめ1のできごとのあとに行われたこととして最も適切なものを、下のア～エの中から一つ選び、その記号を書きなさい。(2点)

まとめ1

第126回国会 衆議院 本会議 第34号 平成5(1993)年6月18日

議長：これより会議を開きます。

□□：議事日程追加の緊急動議を提出いたします。△△^{ほか}八名提出、〇〇内閣不信任決議案は、提出者の要求のとおり、委員会の審査を省略してこれを上程し、その審議を進められることを望みます。

議長：□□の動議に御異議ありませんか。

議長：御異議なしと認めます。よって、日程は追加されました。

議長：〇〇内閣不信任決議案を議題といたします。

(中略)

議長：採決いたします。この採決は記名投票をもって行います。

(中略)

議長：右の結果、〇〇内閣不信任決議案は可決いたしました。

- ア 同じ議案が参議院で否決された。
- イ 両院協議会が開かれた。
- ウ 衆議院が解散された。
- エ 15日後に内閣が総辞職した。

問 4 カードⅣに関連して、Fさんは、市場経済での公正な競争について調べ、次のようにまとめました。まとめ2の中の□ Y □にあてはまる法律の名称を書きなさい。(2点)

まとめ2

市場で競争が弱まると、消費者は不当に高い価格で財やサービスを購入する状況も起こります。そこで、市場での公正かつ自由な競争を促進し、事業者が自主的な判断で自由に活動できるようにすることを目的として□ Y □が1947年に制定されました。公正取引委員会が□ Y □に基づいて、監視や指導を行っています。

問 5 次は、カードVとカードVIに関するFさんとMさんの会話です。会話文中の **a** にあたるグラフとして最も適切なものを、あとのア～ウの中から一つ選び、その記号を書きなさい。また、会話文中の **A** にあてはまるように、グラフ3から読みとれることを書きなさい。(5点)

Fさん：カードVとカードVIを関連させると、戦後の日本の経済成長と貿易のつながりがみえてくるね。

Mさん：そうだね。まずグラフ1から、高度経済成長期において、日本のエネルギー利用の主役は石炭から石油に変わっていることが読みとれるよ。

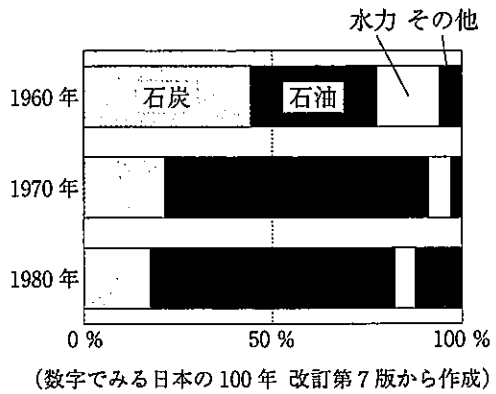
Fさん：でも、1973年の第四次中東戦争をきっかけに石油価格が大幅に上昇したことで、日本の経済は大きく混乱し、高度経済成長が終わるんだよね。

Mさん：このあと日本は、経営の合理化や省エネルギー化を進め、いち早く不況を乗り切ったことを学習したね。

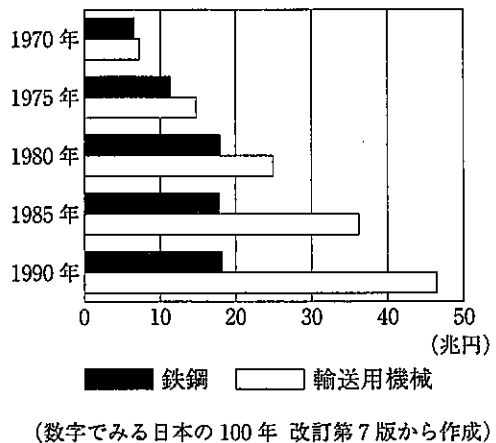
Fさん：グラフ2から、鉄鋼の出荷額よりも自動車などの輸送用機械の出荷額の方が大きく伸びていることが読みとれ、日本は輸送用機械の生産に力を入れたと考えられるよ。

Mさん：そうだね。でもその結果、貿易摩擦が深刻化したんだよね。その状況がわかるのがグラフ3だね。


グラフ1 日本のエネルギー利用の割合の推移



グラフ2 日本の鉄鋼と輸送用機械の工業出荷額の推移



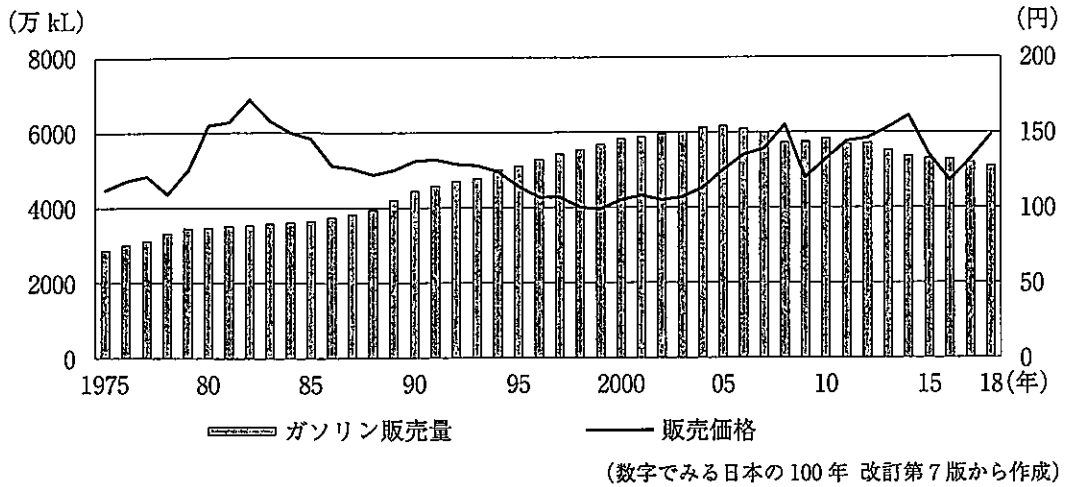
グラフ3



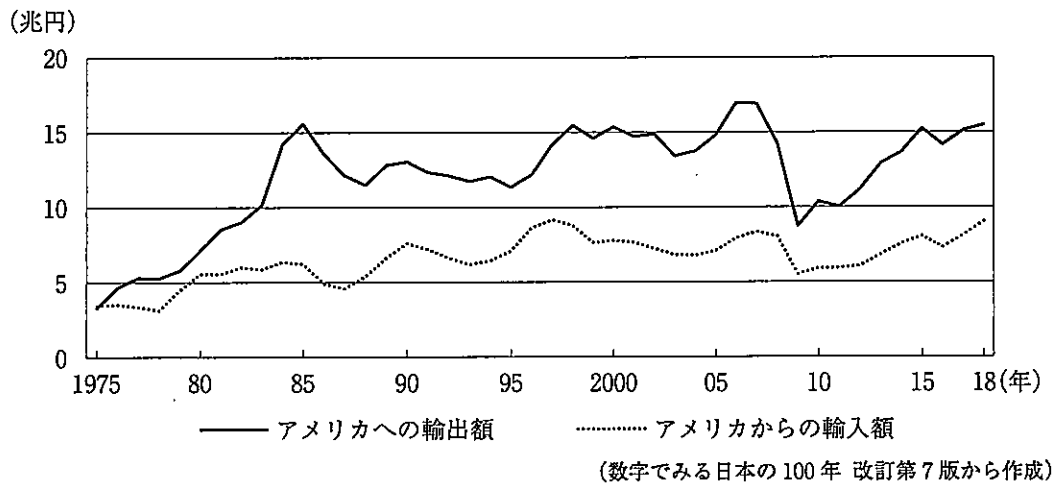
Fさん：グラフ3からは、1976年以降、**A** ことが読みとれ、2018年に至ってもその傾向は、継続しているよ。

Mさん：世界では、貿易摩擦などの課題があり、これらの課題を話し合っ解決するために、世界貿易機関が重要な役割を果たしているね。

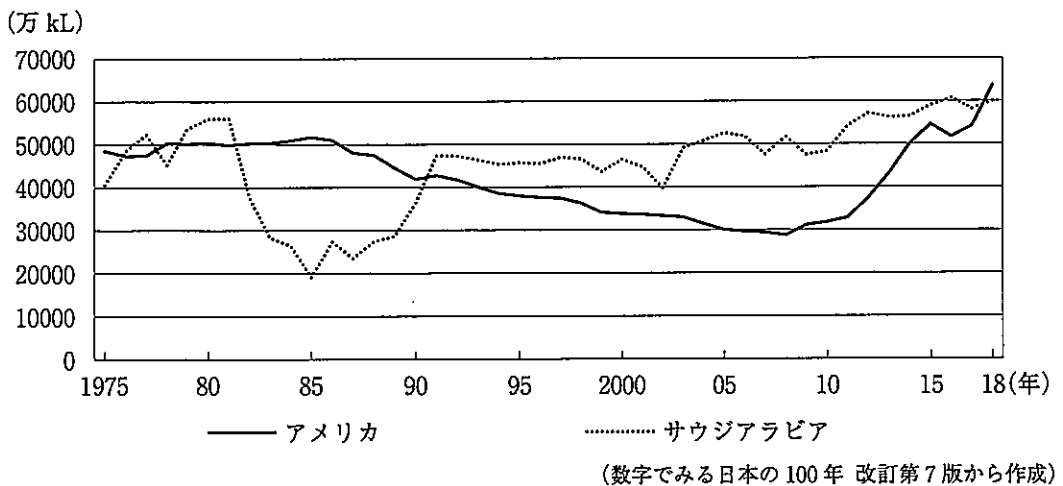
ア 日本におけるガソリンの販売量と東京 23 区での 1L あたりの販売価格の推移



イ 日本におけるアメリカへの輸出額とアメリカからの輸入額の推移



ウ アメリカとサウジアラビアの石油生産量の推移



(以上で問題は終わりです。)

追検査

会社 解答用紙 (1)

1

問1 *	P	緯	緯 Q	経
問2 *	Y			
問3 *	Z			
問4 *				

2

問1 *				
問2 *	(名称)			島 (記号)
問3 *				
問4 *				
問5 *				

3

問1 *				
問2 *				
問3 *	(人物名)			
問4 *	(特色)			
問5 *		→	→	→

1～3の計

--

受検番号 第 番

(切りはなしてはいけません。)

(ここには何も書いてはいけません。)

追検査

会社 解答用紙 (2)

4

問1 *				
問2 *				
問3 *				
問4 *	→	→	→	→
問5 *				

5

問1 *				
問2 *				
問3 *				
問4 *				
問5 *	A	B	C	D
問6 *				
問7 *				

6

問1 *	X		(記号)
問2 *		→	→
問3 *			
問4 *			
問5 *	(記号)		A

1～3の計

--

得点 ※

受検番号 第 番